

学 校
班 级
姓 名
考 号

装
订
线

2019--2020 学年（上）期中质量检测
二年级数学试卷

答题时间：60 分钟 满分：100 分

题 号	一	二	三	四	五	总 分
得 分						

一、我会填（26 分）

1. 填一填。

$5+5+5= \square \times \square$
 $3 \times 4 = \square + \square + \square$

$8+8+8+8+8= \square \times \square$
 $2 \times 3 = \square + \square + \square$

2. 找规律，填一填。

10, 15, 20, (), ()。

18, 16, 14, (), ()。

27, 24, 21, (), ()。

3. 一张十元能换 () 张两元；能换 () 张五元。

一张五十元能换 () 张十元；能换 () 张五元。

4. 把口诀补充完整。

三九 () 四五 () 三六 () 二七 ()

5. 填上 “>” “<”。

$30 () 6 \times 4$
 $5 \times 5 () 5 + 5$

$2 \times 6 () 10$
 $9 \times 5 () 54$

二、我会看（19 分）

1. 看图填空。

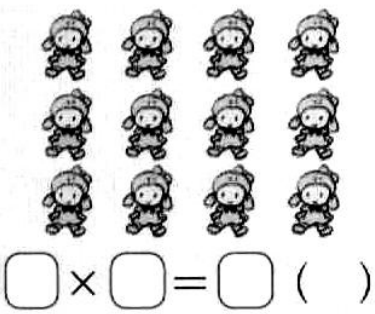


每盘有 () 块蛋糕，有 () 盘，一共有 () 块蛋糕。


2. 看图列式。




加法算式：
乘法算式：



加法算式：
乘法算式：



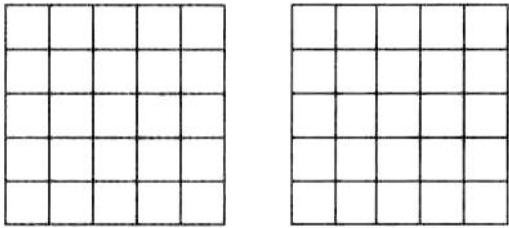
3. 上面一行图案是从下面的纸上剪下的，连一连。



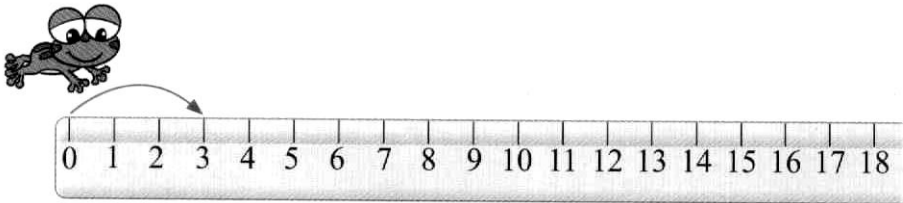
我会画（16分）

1. 用两种方法涂色表示算式。

4×3



2. 画一画，填空。



青蛙 1 步跳 3 格，2 步跳（ ）格，3 步跳（ ）格，6 步跳（ ）格。

四、我会算（18 分）

1. 直接写得数。

$20 + 24 =$ $70 - 30 =$ $90 - 30 =$ $6 \times 9 =$ $3 \times 3 =$

$32 + 20 =$ $8 - 5 =$ $8 \times 5 =$ $8 + 5 =$ $9 \times 1 =$

2. 竖式计算。

$36 + 25 =$ $72 - 18 =$ $59 + 47 =$ $64 - 9 =$

五、我会解决问题 21 分

1. 商店原来有 98 台电脑，卖出 45 台，又运进 20 台，现在商店里有多少台电脑？

答：现在商店里有（ ）台。

2. 妈妈拿 100 元，去买 2 盏台灯。请你帮妈妈选出 2 盏台灯，并计算出共花了多少钱？ 还剩多少钱？



答：一共花了（ ）元。还剩（ ）元。

3. “蓝猫商店”部分商品价格如下。



(1) 丽丽买 3 个娃娃一共花了多少元？

答：一共花了（ ）元。

(2) 提出一个问题并解答： _____ ？

答：